

Examen de chasse théorique: session 2016

RAPPEL :

Une bonne réponse vous donne droit à 1 point (+1) mais une mauvaise réponse vous fait perdre 1 point (-1).

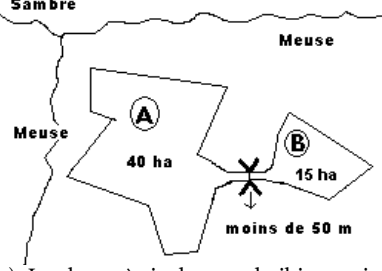
2 CONSEILS :

Si vous hésitez sur la réponse à apporter à une question, il est préférable de vous abstenir afin de ne pas courir le risque de perdre 1 point. (pas de réponse = ni bonus ni malus). Soyez particulièrement attentif lorsque vous retranscrivez vos réponses sur la grille de réponse définitive.

Les solutions se trouvent en page 62

BRANCHE I - Connaissance de la réglementation sur la chasse et la conservation de la nature (questions n° 1 à 20)

Questions n° 1 à 20

- En Région wallonne, la recherche d'un gibier blessé est**
 - obligatoire pour tout gibier.
 - obligatoire pour le grand gibier uniquement.
 - interdite.
- La chasse sur les voies ferrées en activité est**
 - autorisée pour le propriétaire riverain ou son ayant droit.
 - autorisée pour les employés des chemins de fer.
 - interdite.
- Lors d'une battue, les traqueurs**
 - doivent être munis d'un permis de chasse.
 - ne doivent pas être munis d'un permis de chasse.
 - doivent être munis d'une licence de chasse.
- Un rôti de biche peut être offert au consommateur dans un restaurant**
 - uniquement du 21 septembre au 10 janvier inclus.
 - uniquement du 21 septembre au 15 février inclus.
 - toute l'année.
- Lequel de ces mammifères est classé comme gibier par la loi sur la chasse ?**
 - Le Blaireau.
 - L'Ecureuil.
 - L'Hermine.
- Le transport et le lâcher de faisans vivants est autorisé durant tout le mois**
 - de septembre.
 - de décembre.
 - d'août.
7. 

 - La chasse à tir du grand gibier est interdite sur la partie A (bloc à gauche) et sur la partie B (bloc à droite) du territoire.
 - La chasse à tir du grand gibier est autorisée sur la partie A du territoire mais est interdite sur la partie B.
 - La chasse à tir du grand gibier est autorisée sur la partie A et sur la partie B du territoire.
- Lequel de ces 3 gibiers est classé par la loi sur la chasse dans la catégorie "petit gibier" ?**
 - Le Lapin.
 - Le Pigeon ramier.
 - La Bécasse des bois.
- L'apposition d'un bracelet entre le tendon et l'os d'une des pattes arrière de l'animal est exigée**
 - pour le transport de tout grand gibier en Région wallonne, quelle que soit l'origine de celui-ci.
 - pour le transport de tout grand gibier tiré sur un territoire de chasse en Région wallonne.
 - uniquement pour le transport d'un Cerf tiré en application du Plan de tir.
- Du point de vue de la législation sur la chasse, quel est le but social principal des conseils cynégétiques agréés ?**
 - La défense des intérêts de ses membres.
 - La coordination de la gestion cynégétique sur les territoires de ses membres.
 - La distribution des bracelets à ses membres.
- Laquelle de ces 3 espèces peut être aujourd'hui empaillée et détenue dans cet état, sans aucune autorisation ?**
 - Le Chat sauvage.
 - L'Ecureuil roux.
 - Le Renard.
- Lors de l'actuelle année cynégétique, la chasse à l'approche et à l'affût du brocard était ouverte à partir du**
 - 15 juillet.
 - 1^{er} août.
 - 15 août.
- Lors de l'année cynégétique 2015-2016, la poule faisane pouvait être chassée**
 - dès le 1^{er} octobre.
 - à partir du 15 octobre.
 - jusqu'au 31 janvier.
- Lors de l'actuelle saison cynégétique, laquelle des 3 espèces gibiers suivantes pouvait être chassée ?**
 - La Bernache du Canada.
 - Le Canard siffleur.
 - La Poule d'eau.
- Lequel de ces aliments est autorisé par la réglementation pour nourrir le Sanglier à titre dissuasif ?**
 - La betterave.
 - Le maïs.
 - L'orge.
- Pour la chasse en battue du grand gibier le calibre nominal des balles de carabine doit avoir au moins**
 - 4,0 mm.
 - 5,58 mm.
 - 6,50 mm.

17. Laquelle des espèces gibiers suivantes peut être détruite en cas de dommages importants à certaines cultures ?

- a) La Bernache du Canada.
- b) Le Lièvre.
- c) Le Canard Colvert.

18. Quelle est l'espèce ou quelles sont les espèces gibier soumise(s) à un plan de tir réglementaire en Région wallonne ?

- a) Le Cerf.
- b) Le Cerf, le Sanglier, le Chevreuil, le Daim et le Mouflon.
- c) Le Cerf, la Perdrix et le Lièvre.

19. La loi du 14 juillet 1961 assure la réparation des dégâts causés par le gros gibier aux

- a) cultures agricoles.
- b) peuplements forestiers.
- c) cultures agricoles et aux peuplements forestiers.

20. Sauf pour rechercher un gibier blessé, l'usage d'un chien est interdit lors de

- a) la chasse à l'approche ou à l'affût.
- b) la chasse au vol.
- c) la chasse en battue.

BRANCHE II - Connaissance du gibier, des animaux sauvages et des chiens de chasse (questions n° 21 à 60)

Questions n° 21 à 60

21. La biche met généralement bas en

- a) mars-avril.
- b) mai-juin.
- c) juillet-août.

22. Pour le Cerf, les végétaux herbacés représentent approximativement

- a) 10 % du régime alimentaire annuel.
- b) 60 % du régime alimentaire annuel.
- c) 100 % du régime alimentaire annuel.

23. Le Cerf est une espèce

- a) solitaire.
- b) grégaire.
- c) vivant en couple.

24. L'organisation chaque année au printemps de comptages nocturnes aux phares sur des territoires où le Cerf est présent permet

- a) de connaître avec précision le nombre de cerfs présents sur les territoires parcourus.
- b) d'évaluer l'évolution dans le temps de la population de cerfs présente sur ces territoires.
- c) d'évaluer avec exactitude la proportion de cerfs boisés sur ces territoires.

25. Dès l'âge de 3 ans, la femelle met bas presque toujours 2 jeunes. Il s'agit d'une

- a) biche.
- b) mouflonne.
- c) chevrette.

26. Parmi les 3 affirmations suivantes relatives au comportement du Chevreuil, indiquez celle qui est exacte.

- a) Des rassemblements hivernaux peuvent être observés.
- b) Les jeunes quittent leur mère dès l'âge de 3 mois.
- c) A la sortie de l'hiver, les brocards se rassemblent par groupe de 2 ou 3 individus.

27. En Région wallonne, quel est l'habitat habituellement préféré par le Chevreuil ?

- a) Les milieux boisés diversifiés, riches en couverts bas et entrecoupés de zones ouvertes.
- b) Le cœur des grands massifs boisés fortement enrésinés.
- c) Les grandes plaines cultivées.

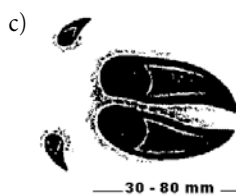
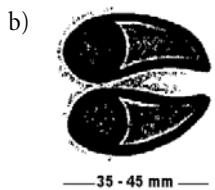
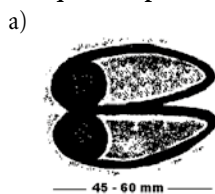
28. Une laie suitée est

- a) une femelle suivie d'un vieux mâle.
- b) une femelle accompagnée de ses petits.
- c) une femelle qui s'apprête à mettre bas.

29. La laie est féconde

- a) à partir de l'âge de 2 ans.
- b) dès qu'elle atteint un poids de l'ordre de 30 à 40 kg.
- c) dès qu'elle devient la laie meneuse de la compagnie.

30. Indiquez l'empreinte du Sanglier.



31. Le Mouflon est un animal

- a) sociable et grégaire.
- b) solitaire.
- c) vivant en couple.

32. Une daine adulte met généralement bas

- a) un faon.
- b) deux faons.
- c) trois faons.

33. Le broyage des jachères au printemps est une pratique

- a) favorable à la petite faune sauvage des plaines.
- b) défavorable à la petite faune sauvage des plaines.
- c) sans impact sur la petite faune sauvage des plaines.

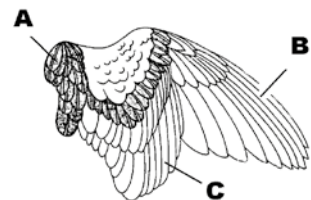
34. Généralement, une hase (femelle du lièvre) adulte met bas

- a) 1 ou 2 fois par an.
- b) 3 ou 4 fois par an.
- c) 5 ou 6 fois par an.

35. Parmi les 3 types d'habitat suivants, indiquez celui où on devrait normalement observer les densités de Lièvre les plus élevées dans des conditions favorables.

- a) Les zones de grandes cultures.
- b) Les zones fortement boisées.
- c) Les zones humides.

36. Sur ce dessin représentant une aile de Perdrix, les plumes scapulaires sont désignées par la lettre



- a) A.
- b) B.
- c) C.

37. Lequel des 3 types de milieux suivants convient le mieux à la Perdrix ?

- a) Les grandes prairies de fauche.
- b) Les plaines cultivées ouvertes avec une prédominance de céréales à paille.
- c) Les milieux humides entourés de bois.

38. La Perdrix grise est une espèce

- a) sédentaire.
- b) migratrice; elle passe l'été au Nord de la Belgique.
- c) migratrice; elle passe l'hiver au Sud de la Belgique.

39. Après une première couvée réussie, la poule faisane pourra, la même année, en avoir une deuxième.

- a) Vrai.
- b) Vrai, à condition que la poule soit âgée d'au moins 2 ans.
- c) Faux.

40. Le Faisan commun est une espèce

- a) qui est dotée d'une bonne capacité d'adaptation à différents milieux.
- b) qui ne peut se développer naturellement que dans les habitats fortement boisés.
- c) qui ne peut se développer naturellement dans aucun de nos milieux et nécessite dès lors des repeuplements réguliers.

41. La Bécasse des bois est

- a) un oiseau solitaire.
- b) un oiseau vivant en couple toute l'année.
- c) un oiseau vivant en compagnie durant la majeure partie de l'année.




42. Lequel de ces 3 gibiers d'eau est le plus grand ?

- a) Le Canard Colvert.
- b) La Poule d'eau.
- c) La Sarcelle d'hiver.

43. Les canards de surface tel que le Canard colvert recherchent préférentiellement

- a) les pièces d'eau stagnante et peu profonde, bordées de végétation.
- b) les rivages marins.
- c) les grandes étendues d'eau, ayant une profondeur d'au moins quelques mètres.

44. Lequel de ces 3 dessins représente l'empreinte du Renard ?

- a) 
- b) 
- c) 

45. Le putois fréquente préférentiellement

- a) les milieux humides.
- b) les milieux forestiers.
- c) les milieux proches de l'homme.

46. Le lapin est une espèce se caractérisant par

- a) une structure sociale très hiérarchisée.
- b) sa prédilection pour les grands massifs forestiers.
- c) sa grande résistance aux maladies.

47. La ponte chez le Pigeon ramier est composée normalement de

- a) 2 œufs.
- b) 4 œufs.
- c) 6 œufs.

48. Chez le Lapin, les jeunes naissent

- a) couverts de poils et les yeux ouverts.
- b) aveugles et nus.
- c) à l'air libre, à même le sol.

49. Le Renard est susceptible de transmettre à l'homme

- a) la myxomatose.
- b) l'échinococcose alvéolaire.
- c) la paratuberculose.

50. Vu son régime alimentaire, le Pigeon ramier peut commettre des dégâts importants

- a) à la régénération en forêt résineuse.
- b) en prairie.
- c) dans les cultures de pois.

51. Pour la chasse sous terre, quelle est la race de chien la plus adaptée ?

- a) Le Chien de Saint-Hubert.
- b) Le Jack Russel Terrier.
- c) Le Griffon Korthals.

52. Ce corvidé est

- a) une corneille noire.
- b) un choucas des tours.
- c) un corbeau freux.



53. Ce mammifère est

- a) une fouine.
- b) une hermine.
- c) un putois.



54. Ce colombidé est

- a) une tourterelle des bois.
- b) une tourterelle turque.
- c) un pigeon ramier.



55. Ces rapaces nocturnes sont des chouettes

- a) hulottes.
- b) chevêches.
- c) effraies.



56. Ce rapace diurne est

- a) un milan noir.
- b) une buse variable.
- c) un faucon pèlerin.



57. Les chiens de cette race sont généralement utilisés comme

- a) chiens rapporteurs de gibier.
- b) chiens de sang pour la recherche au sang du grand gibier blessé.
- c) chien d'arrêt.



58. Il s'agit

- a) d'une biche.
- b) d'une chevrette âgée.
- c) d'une daine.



59. Cet oiseau est

- a) une perdrix grise.
- b) une caille des blés.
- c) une poule faisane.



60. Cet oiseau est

- a) un étourneau.
- b) un merle.
- c) une grive musicienne.



BRANCHE III - Connaissance des armes, munitions et éthique de la chasse (questions n° 61 à 80)

Questions n° 61 à 80

61. Quel est le plus gros calibre pour ces 3 fusils ?

- a) Calibre 16.
- b) Calibre .410.
- c) Calibre 20.

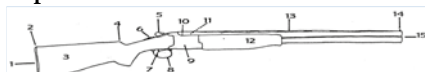
62. Normalement, la portée maximum du plomb n° 4 est

- a) plus élevée que celle du plomb n°7.
- b) plus élevée que celle du plomb n°2.
- c) plus faible que celle du plomb n°6.

63. Une cartouche à plombs dont la longueur de l'étui est de 3 pouces peut être utilisée dans un fusil chamberé en

- a) 65 mm.
- b) 70 mm.
- c) 76 mm.

64. Sur ce schéma d'un fusil, où se situe le pontet ?



- a) En 4.
- b) En 8.
- c) En 9.

65. Dans un fusil à deux canons, le choke est

- a) généralement plus important pour le canon tirant le premier coup.
- b) généralement plus important pour le canon tirant le second coup.

c) toujours identique pour les deux canons.

66. Une cartouche à grenaille (ou à "plombs") est généralement tirée

- a) dans un canon lisse.
- b) dans un canon rayé.
- c) indifféremment dans un canon lisse ou dans un canon rayé.

67. D'une façon générale, la douille d'une cartouche pour une carabine à verrou est munie à sa base

- a) d'un bourrelet.
- b) d'une gorge.
- c) d'un semi-bourrelet.

68. Indiquez l'élément constitutif d'une cartouche à balle de carabine.

- a) L'amorce.
- b) La bourre.
- c) Le percuteur.

69. Sur une carabine à un seul canon, la présence d'une deuxième détente

- a) signifie que l'arme est équipée d'un stecher.
- b) permet de tirer rapidement une deuxième balle.
- c) n'est observé sur aucun modèle.

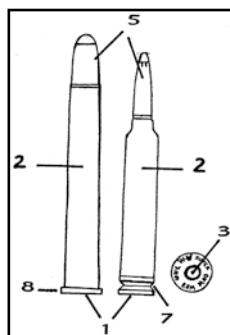
70. Les rayures du canon d'une carabine servent à

- a) accroître la précision du tir.
- b) réduire le recul de l'arme.
- c) augmenter l'énergie du projectile à la sortie du canon.

71. Lequel des 3 calibres suivants possède un diamètre d'au moins 6,5 mm et développe une énergie cinétique à 100 m de la bouche du canon de 2.200 joules ou plus ?

- a) .243 Winchester
- b) .222 Remington
- c) 8 x 57 JRS

72. Dans ce schéma de munitions de carabine, où se trouve la balle ?



- a) En 1.
- b) En 2.
- c) En 5.

73. Le "champ visuel" d'une lunette de visée correspond

- a) à la distance entre le tireur et le gibier visé, divisée par le grossissement de la lunette.
- b) à la largeur de terrain visible à 100 m.
- c) au diamètre de l'objectif de la lunette.

74. En début de saison de chasse, vous tentez de tirer

- a) le faon avant sa mère.
- b) la biche avant son faon.
- c) l'animal qui se présente le premier.

75. Afin d'éviter de blesser un lièvre, je ne tire pas au-delà d'une distance

- a) de 30-40 mètres.
- b) de 50-60 mètres.
- c) de 70-80 mètres.

76. Posté en battue, je tire et blesse un sanglier. Pour tenter d'achever l'animal,

- a) je ne quitte mon poste qu'après le signal de la fin de la traque.
- b) je quitte immédiatement mon poste.
- c) je quitte immédiatement mon poste, après avoir toutefois prévenu mes voisins.

77. L'anschluss correspond à l'endroit où l'animal

- a) se trouvait avant de disparaître de la vue du chasseur.
- b) se trouvait au moment où il a été atteint par la balle.
- c) a été retrouvé et achevé.

78. En battue, il faut commencer à mettre en joue le gibier

- a) dès qu'on le voit apparaître dans l'enceinte.
- b) dès qu'il se trouve à hauteur de la ligne des postes de tir.
- c) après qu'il soit sorti de l'enceinte et qu'il ait franchi la ligne des postes de tir.

79. Tirer sur un gibier posé sur un étang est dangereux en raison

- a) du risque de blesser un animal dans l'eau.
- b) du risque de ricochet des projectiles sur la surface de l'eau.
- c) de la difficulté de viser correctement.

80. En action de chasse, je ferme mon fusil à bascule

- a) en relevant les canons.
- b) en relevant la crosse.
- c) en relevant à la fois les canons et la crosse.

Examen de chasse 2016 : les réponses attendues

Branche 1		Branche 2				Branche 3	
1	A	21	B	41	A	61	A
2	C	22	B	42	A	62	A
3	B	23	B	43	A	63	C
4	B	24	B	44	A	64	B
5	C	25	C	45	A	65	B
6	C	26	A	46	A	66	A
7	A	27	A	47	A	67	B
8	C	28	B	48	B	68	A
9	B	29	B	49	B	69	A
10	B	30	C	50	C	70	A
11	C	31	A	51	B	71	C
12	A	32	A	52	B	72	C
13	A	33	B	53	B	73	B
14	A	34	B	54	C	74	A
15	C	35	A	55	C	75	A
16	C	36	A	56	B	76	A
17	A	37	B	57	A	77	B
18	A	38	A	58	A	78	C
19	A	39	C	59	A	79	B
20	A	40	A	60	A	80	B