

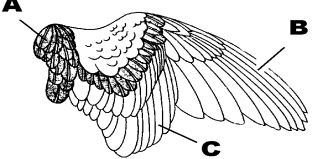
**BRANCHE I - Connaissance de la réglementation sur la chasse et la conservation de la nature (questions n° 1 à 15)**




1.	Comment la loi sur la chasse définit-elle de façon complète l'acte de chasse ?	a)	L'action consistant à capturer ou tuer un gibier en utilisant les moyens légaux.	b)	L'action consistant à capturer ou tuer un gibier, de même que celle consistant à le rechercher ou à le poursuivre à ces fins.	c)	L'action consistant à capturer ou tuer un gibier, de même que celle consistant à le détenir en vue d'un lâcher.
2.	Combien de catégories de gibiers existe-t-il selon la loi sur la chasse ?	a)	2	b)	3	c)	4
3.	Le Gouvernement fixe pour chaque catégorie, espèce, type ou sexe de gibier et pour chaque mode et procédé de chasse, les dates de l'ouverture, de la clôture ou de la suspension de la chasse	a)	annuellement.	b)	pour une période de 3 ans.	c)	pour une période de 5 ans.
4.	La chasse en battue est autorisée	a)	depuis le lever officiel du soleil jusqu'au coucher officiel du soleil.	b)	depuis une demi-heure avant le lever officiel du soleil jusqu'à une demi-heure après le coucher officiel.	c)	depuis une heure avant le lever officiel du soleil jusqu'à une heure après le coucher officiel.
5.	La chasse à tir est interdite sur toute partie d'un territoire, quelle que soit la superficie de celui-ci, lorsque les dimensions de cette partie ne permettent pas d'y inscrire un cercle d'un rayon de minimal de	a)	25 mètres.	b)	50 mètres.	c)	100 mètres.
6.	La chasse du lapin est-elle autorisée sur un territoire de chasse de moins de 25 ha ?	a)	oui, dans tous les cas.	b)	non, dans aucun cas.	c)	oui, s'il s'agit d'une chasse uniquement à l'aide de bourses et de furets.

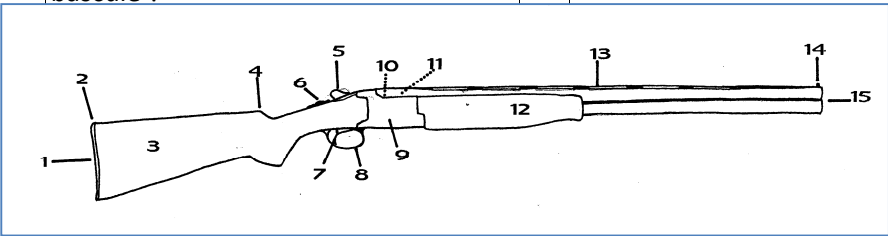
7.	Il est autorisé d'occuper, avec une arme, un mirador situé à moins de deux cents mètres d'un lieu de nourrissage artificiel du gibier pour y chasser et y détruire	a)	uniquement le grand gibier.	b)	le grand gibier et le Renard.	c)	uniquement le Sanglier.
8.	Tout acte de chasse à partir d'un véhicule à moteur est	a)	autorisé.	b)	soumis à autorisation, ainsi qu'au respect de certaines conditions.	c)	interdit.
9.	Le chasseur peut transporter un gibier mort depuis le jour de l'ouverture jusqu'à et y compris	a)	le jour de fermeture de la chasse à ce gibier.	b)	le cinquième jour après le jour de la fermeture de la chasse à ce gibier.	c)	le dixième jour après le jour de la fermeture de la chasse à ce gibier.
10.	L'apposition d'un bracelet entre le tendon et l'os d'une des pattes arrières de l'animal est exigée	a)	pour le transport de tout grand gibier en Région wallonne, quelle que soit l'origine de celui-ci.	b)	pour le transport de tout grand gibier tiré sur un territoire de chasse en Région wallonne.	c)	uniquement pour le transport d'un Cerf tiré en application du plan de tir.
11.	Lequel de ces aliments peut être utilisé pour le nourrissage dissuasif du Sanglier ?	a)	La betterave.	b)	Les tourteaux.	c)	L'orge.
12.	Laquelle des 3 armes suivantes peut être utilisée pour chasser le Lièvre en Région wallonne ?	a)	Un fusil « à pompe » d'un calibre 20.	b)	Une carabine d'un calibre .22.	c)	Une carabine d'un calibre de 6,5 mm.
13.	Lequel de ces 3 pièges ne peut jamais être utilisé pour détruire le Renard ?	a)	Le piège à lacets	b)	Le collet sans arrêtoir.	c)	La boîte à fauves.
14.	Indiquez parmi les animaux cités ci-après celui qui est protégé par la loi sur la conservation de la nature.	a)	L'Hermine.	b)	Le Chat sylvestre (Chat sauvage).	c)	L'Oie des moissons.
15.	Durant l'actuelle saison cynégétique, la chasse de la poule faisane pouvait se pratiquer	a)	du 1 <sup>er</sup> septembre au 30 novembre.	b)	du 1 <sup>er</sup> octobre au 31 décembre.	c)	du 15 octobre au 31 janvier.

**BRANCHE II - Connaissance du gibier, des animaux sauvages et des chiens de chasse (questions n° 16 à 45)**

16.	La gestion des populations de cerfs se conçoit à l'échelle de territoires réunissant au minimum quelques	a)	dizaines d'hectares.	b)	centaines d'hectares.	c)	milliers d'hectares.
17.	La biche peut mettre bas pour la première fois dès l'âge de	a)	1 an.	b)	2 ans.	c)	3 ans.
18.	Chez le Chevreuil, le régime alimentaire est composé d'environ 80 % de	a)	plantes herbacées.	b)	plantes semi-ligneuses et ligneuses.	c)	graines et fruits forestiers.
19.	Dans une population équilibrée de chevreuils, on cherchera à effectuer un prélèvement réparti comme suit	a)	1/3 de brocards – 1/3 de chevrettes – 1/3 de jeunes de l'année, des 2 sexes.	b)	50 % de brocards – 25 % de chevrettes – 25 % de jeunes de l'année, des 2 sexes.	c)	50 % de brocards – 50 % de jeunes de l'année, des 2 sexes.
20.	En règle générale, le Sanglier adulte passe la journée dans	a)	une bauge.	b)	un chaudron.	c)	une souille.
21.	Le taux d'accroissement annuel d'une population de sangliers	a)	est constant.	b)	est fluctuant selon les années.	c)	ne dépasse jamais 100 %.
22.	Les prairies de fauche constituent	a)	un site sans intérêt alimentaire pour le Lièvre.	b)	un site que le Lièvre ne fréquente jamais.	c)	un site d'alimentation attractif pour le Lièvre.
23.	Chez le Lièvre, si à l'examen des premiers tableaux de chasse de la saison on dénombre moins de jeunes de l'année que d'adultes,	a)	il faut arrêter les prélèvements pour le restant de la saison de chasse.	b)	on doit limiter les prélèvements à 25 % de la population présente à l'ouverture.	c)	on peut prélever sans crainte jusqu'à 50 % de la population présente à l'ouverture.
24.	Pour la Perdrix grise, l'observation des adultes et des jeunes en juillet/août a pour but d'estimer	a)	la production de jeunes par couple.	b)	la proportion des sexes.	c)	les pertes hivernales.

<p>25. Sur ce dessin représentant une aile de Perdrix, les plumes scapulaires sont localisées</p> 	a) En A.	b) En B.	c) En C.
26. Chez le Faisan, la plupart des éclosions ont normalement lieu en	a) mars-avril.	b) mai-juin.	c) juillet-août.
27. Laquelle des 3 espèces suivantes est polygame ?	a) Le Pigeon ramier.	b) La Perdrix grise.	c) Le Faisan de Colchide.
28. Chez le Pigeon ramier, les oiseaux observés chez nous sont	a) tous sédentaires.	b) tous migrateurs.	c) en partie sédentaires, en partie migrateurs.
29. En journée, la Bécasse des bois se repose principalement dans	a) les étangs et les marais.	b) les forêts feuillues avec un sol frais et riche en humus.	c) les champs et les cultures.
30. Quel est le plus petit des 3 canards suivants ?	a) Le Canard colvert.	b) La Sarcelle d'hiver.	c) Le Canard souchet.
31. La Foulque macroule est une espèce	a) exclusivement granivore.	b) exclusivement frugivore.	c) omnivore.
32. Les lapereaux sont très sensibles	a) à la secheresse.	b) aux fortes pluies.	c) au gel.
33. Chez le Renard, les jeunes	a) naissent en mai.	b) sont sevrés au plus tard à l'âge d'un mois.	c) peuvent participer à la reproduction dès l'année qui suit leur naissance.
34. Les éboulis, vieilles granges, fenils, greniers... sont surtout fréquentés par	a) la Belette.	b) la Fouine.	c) la Martre.

35.	Indiquez la silhouette de la Buse variable.	a)		b)		c)	
36.	La peste porcine chez le Sanglier est due à	a)	un virus.	b)	un ver nématode.	c)	une bactérie.
37.	Cet animal est	a)	une chevrette.	b)	une daine.	c)	une biche.
38.	Cet oiseau est	a)	une poule de Tétraz lyre.	b)	une gélinotte des bois.	c)	un jeune coq faisán.
39.	Cet oiseau est	a)	une caille des blés.	b)	une alouette des champs.	c)	un étourneau sansonnet.
40.	Cet animal est	a)	un jeune mâle.	b)	un vieux mâle.	c)	une femelle.
41.	Ce rapace diurne est	a)	un milan noir.	b)	une buse variable.	c)	un faucon pèlerin.
42.	Cet oiseau est	a)	une grive litorne.	b)	une grive musicienne.	c)	un geai des chênes.
43.	Ce gibier d'eau est	a)	un canard siffleur.	b)	une sarcelle d'hiver.	c)	un canard souchet.
44.	Ce rapace nocturne est	a)	une chouette effraie.	b)	une chouette hulotte.	c)	une chouette de Tengmalm.
45.	Ce chien est un	a)	Saint-Hubert.	b)	Griffon Korthals	c)	Rouge de Bavière.
<b>BRANCHE III - Connaissance des armes, munitions et éthique de la chasse (questions n° 46 à 60)</b>							
46.	Le choke d'un fusil a pour effet	a)	de resserrer la gerbe de plombs.	b)	d'élargir la gerbe de plombs.	c)	de permettre le tir à balle.

47.	Une cartouche à plombs dont la longueur de l'étui est de 3 pouces peut être utilisée dans un fusil chamberé en	a) en 65 mm.	b) en 70 mm.	c) en 76 mm.
48.	La bourre désigne	a) l'élément placé entre la poudre et la charge de plombs.	b) l'ensemble des plombs contenus dans une cartouche.	c) l'élément fermant l'étui de la cartouche.
49.	Sur une carabine à un seul canon, la présence d'une deuxième détente	a) signifie que l'arme est équipée d'un stecher.	b) permet de tirer rapidement une deuxième balle.	c) n'est observé sur aucun modèle.
50.	Désignez le plus gros calibre parmi les 3 suivants.	a) .300 WINCH MAGNUM.	b) .270 WINCHESTER.	c) .222 REMINGTON.
51.	L'utilisation d'une détente douce (stecher)	a) augmente la sécurité du tir en battue.	b) favorise la précision du tir à l'affût.	c) accroît la vitesse de la balle.
52.	La portée maximale normale de plombs de 3 mm se situe entre	a) 100 et 150 mètres.	b) 200 et 300 mètres.	c) 400 et 500 mètres.
53.	Sur un lièvre passant transversalement, le tireur	a) ne doit appliquer aucune correction de tir.	b) doit appliquer une correction de tir d'autant plus faible que l'animal se déplace rapidement.	c) doit appliquer une correction de tir d'autant plus importante que l'animal est loin.
54.	Sur ce schéma d'un fusil, où se situe la bascule ?	a) En 1.	b) En 5.	c) En 9.
				
55.	Sur une lunette de visée 1,5-6 X 42, le nombre 42 correspond	a) au grossissement.	b) au diamètre de l'objectif.	c) à l'indice crépusculaire.

56.	En début de saison de chasse, vous tentez de tirer	a)	le faon avant sa mère.	b)	la biche avant son faon.	c)	l'animal qui se présente le premier.
57.	Indiquer laquelle des 3 propositions suivantes est correcte.	a)	L'absence de réaction de l'animal au coup de feu signifie toujours que l'animal n'a pas été touché.	b)	Le chasseur contrôle systématiquement tous ses tirs après le signal de fin de battue, même lorsqu'il est convaincu d'avoir manqué sa cible.	c)	En cas d'indices de blessure, le chasseur suit et balise la piste de l'animal blessé aussi loin que possible, avant d'en informer le responsable de la chasse.
58.	Indiquer la bonne attitude.	a)	Le gibier allant surgir, prêt à épauler, je veille à déjà avoir le doigt sur la détente.	b)	Chassant à la botte en plaine, avant de franchir un fossé, je veille chaque fois à décharger mon fusil.	c)	Lors d'une chasse en battue, lorsque je marche pour rejoindre mon poste de tir, je veille à déjà charger ma carabine.
59.	Le calibre d'un fusil fait référence	a)	à la longueur de son canon.	b)	à la longueur des cartouches qui peuvent être utilisées avec ce fusil.	c)	au diamètre de l'âme du canon.
60.	Au cours d'une battue au grand gibier, le tir dans l'enceinte	a)	est à proscrire.	b)	est autorisé si le directeur de battue ne l'a pas interdit lors du rond.	c)	est toujours autorisé pour achever un animal blessé se trouvant dans l'enceinte.